

Modèle CCYC : ©DNE

Nom de famille (naissance) :

(Suivi s'il y a lieu, du nom d'usage)

Prénom(s) :

N° candidat :

N° d'inscription :

(Les numéros figurent sur la convocation.)

Né(e) le :



1.1

ÉVALUATION COMMUNE

CLASSE : Première

EC : EC1 EC2 EC3

VOIE : Générale Technologique Toutes voies (LV)

ENSEIGNEMENT : Sciences économiques et sociales

DURÉE DE L'ÉPREUVE : deux heures

Niveaux visés (LV) : LVA LVB

Axes de programme :

CALCULATRICE AUTORISÉE : Oui Non

DICTIONNAIRE AUTORISÉ : Oui Non

Ce sujet contient des parties à rendre par le candidat avec sa copie. De ce fait, il ne peut être dupliqué et doit être imprimé pour chaque candidat afin d'assurer ensuite sa bonne numérisation.

Ce sujet intègre des éléments en couleur. S'il est choisi par l'équipe pédagogique, il est nécessaire que chaque élève dispose d'une impression en couleur.

Ce sujet contient des pièces jointes de type audio ou vidéo qu'il faudra télécharger et jouer le jour de l'épreuve.

Nombre total de pages : 5

Cette épreuve comprend deux parties :

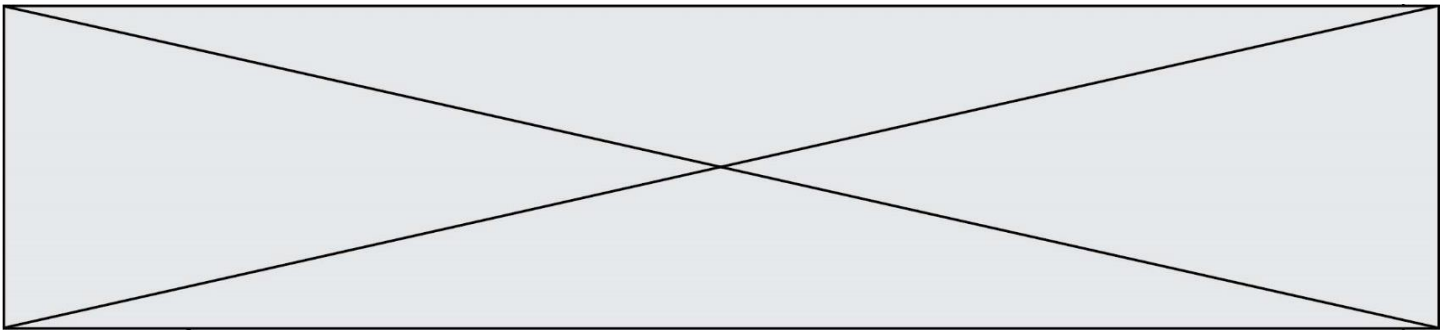
- Première partie : Mobilisation de connaissances et traitement de l'information (10 points)

Il est demandé au candidat de répondre aux questions en mobilisant les connaissances acquises dans le cadre du programme, en adoptant une démarche méthodologique rigoureuse de collecte et d'exploitation de données quantitatives, et en ayant recours le cas échéant à des résolutions graphiques.

- Seconde partie : Raisonnement appuyé sur un dossier documentaire (10 points)

Il est demandé au candidat de traiter le sujet en développant un raisonnement de l'ordre d'une page, en exploitant les documents du dossier et en mobilisant ses connaissances.

Il sera tenu compte, dans la notation, de la clarté de l'expression et du soin apporté à la présentation.



**Première partie : Mobilisation de connaissances et traitement de l'information
(10 points)**

Document

Le marché du fer (exemple fictif)

Au niveau mondial, le marché du fer présente les caractéristiques suivantes (exemple fictif) :

Prix à la tonne (en euros)	25	50	75	100	125	150
Quantités offertes (millions de tonnes)	1 500	2 000	2 500	3 000	3 500	4 000
Quantités demandées (millions de tonnes)	4 500	4 000	3 500	3 000	2 500	2 000

Questions :

1. Distinguez la concurrence parfaite du monopole. (4 points)
2. Déterminez l'équilibre du marché mondial du fer à partir d'une représentation graphique en utilisant la feuille quadrillée en annexe. (3 points)
3. À la suite d'un cyclone en Australie et de la rupture d'un barrage minier au Brésil, qui sont deux importants pays producteurs, la production mondiale de fer a fortement diminué, de 1 000 millions de tonnes pour chaque niveau de prix.
Représentez graphiquement le nouvel équilibre. Que pouvez-vous conclure sur le nouvel équilibre du marché ? (3 points).

Modèle CCYC : ©DNE

Nom de famille (naissance) :


(Suivi s'il y a lieu, du nom d'usage)

Prénom(s) :

N° candidat : **N° d'inscription** :

(Les numéros figurent sur la convocation.)

Né(e) le : / /



1.1

Seconde partie : Raisonnement appuyé sur un dossier documentaire (10 points)

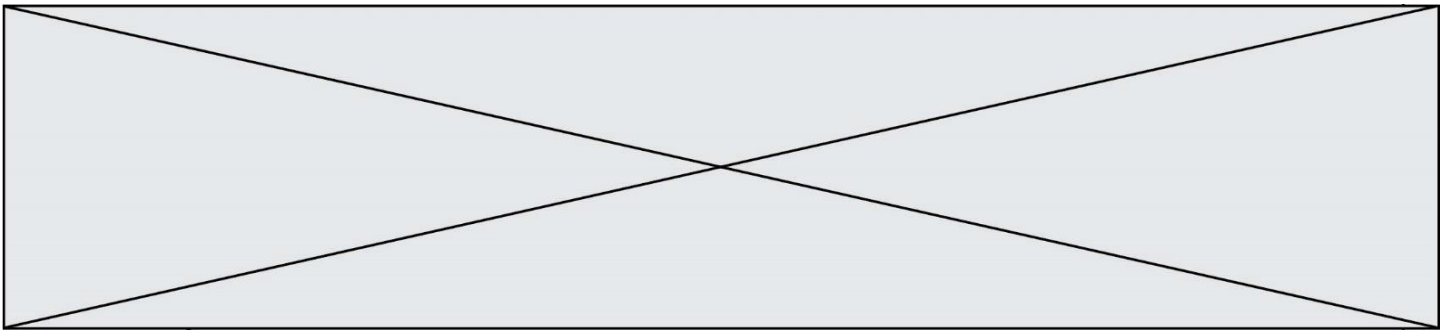
Sujet : À l'aide de vos connaissances et du dossier documentaire, vous montrerez que différents facteurs exposent les individus à l'affaiblissement ou à la rupture de liens sociaux.

Document 1 :

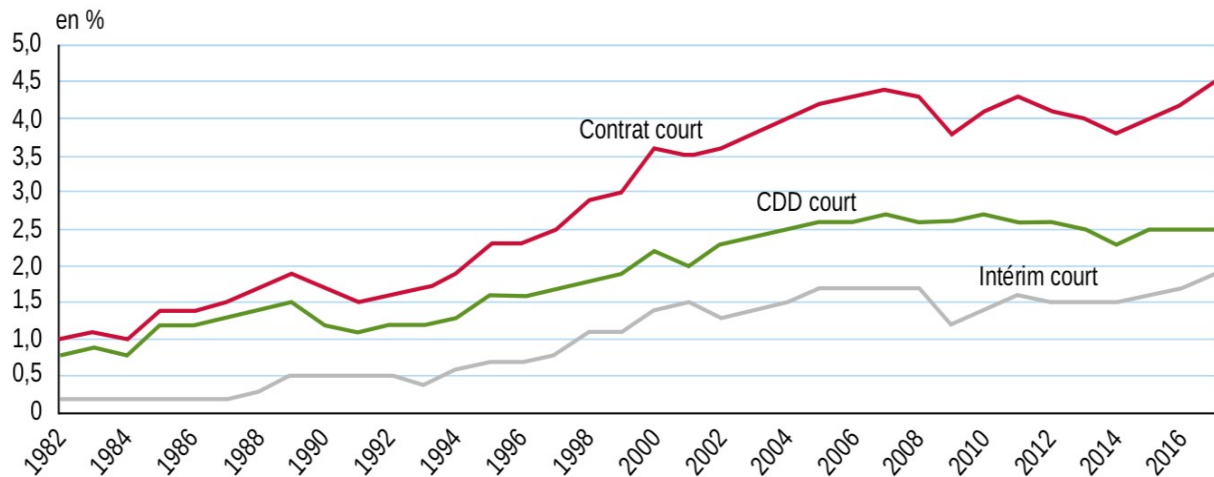
Alors que la ville moderne est par excellence le lieu des mobilités et des brassages sociaux et culturels, elle apparaît aujourd'hui marquée par des processus de clôture sociale. Certains cherchent à faire sécession* et à se protéger dans des quartiers privilégiés, d'autres tentent de s'affranchir de la présence quotidienne des pauvres et des immigrés tandis que des banlieues s'enlisent dans une précarité durable et se replient sur elles-mêmes, dans un entre-soi contraint. Cette ville à plusieurs compartiments fait apparaître un climat d'insécurité qui suscite de vives attentes en termes d'autorité, de surveillance policière et de contrôle social. De façon plus générale, la légitimité des grandes institutions chargées de la socialisation des individus et des groupes sociaux semble en crise. La confiance qu'elles inspiraient est en recul, aussi bien dans le domaine de la famille, de l'école, du travail que des services publics. Dans le domaine de la protection sociale, la crise semble profonde à un moment où les déséquilibres démographiques suscitent des besoins nouveaux et où des franges nombreuses de la population sont vouées au chômage récurrent, à des emplois incertains faiblement rémunérés.

Source : Serge Paugam, *Le lien social*, 2018.

* Sécession : se séparer.



Document 2 : Part des personnes en contrat court* de 1982 à 2017



* Contrat court : moins de 3 mois hors contrat aidé, stage, apprentissage.

Lecture : en 2017, 4,5% des personnes en emploi sont en contrat court.

Champ : France hors Mayotte, population des ménages ordinaires, personnes en emploi.

Source : Yves Jauneau, Joëlle Vidalenc, « Les salariés en contrat court : des allers-retours plus fréquents entre emploi, chômage et inactivité », INSEE Première, N°1736, février 2019.

